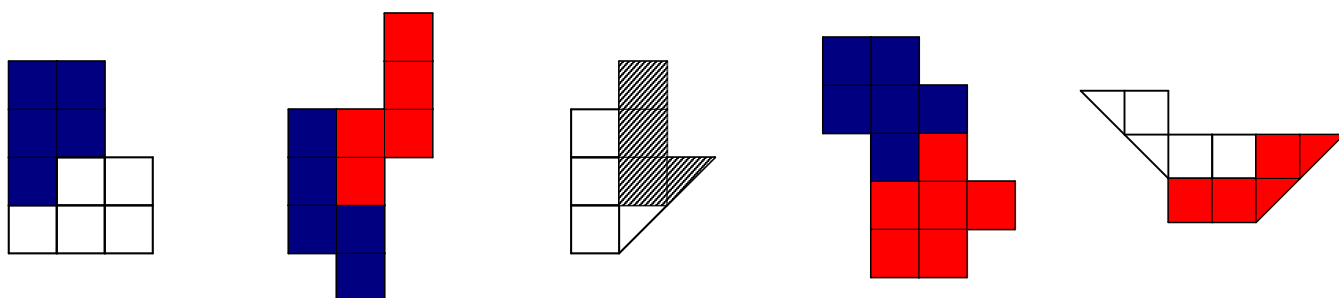


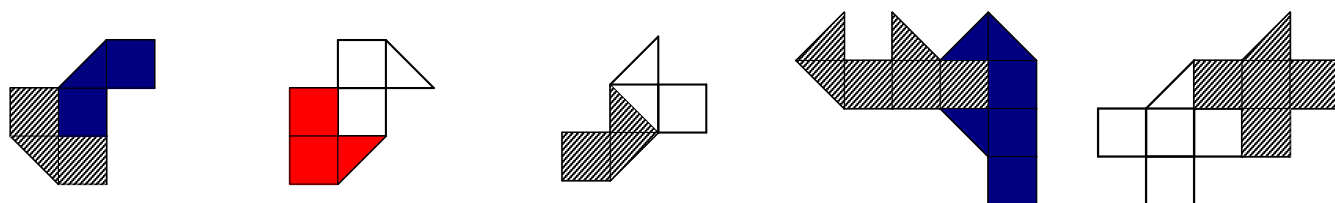


# математична МОЗАЇКА

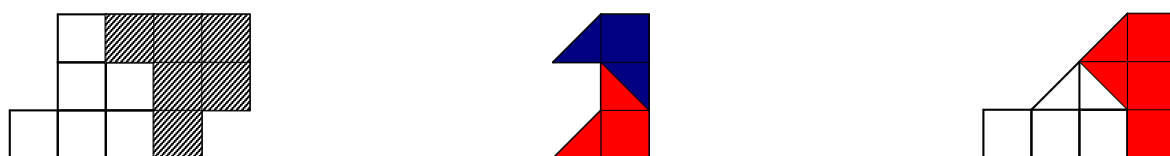
1. (1 бал за кожну фігуру) Розріжте кожну з поданих фігур на дві рівні частини. Різати можна лише по лініях сітки.



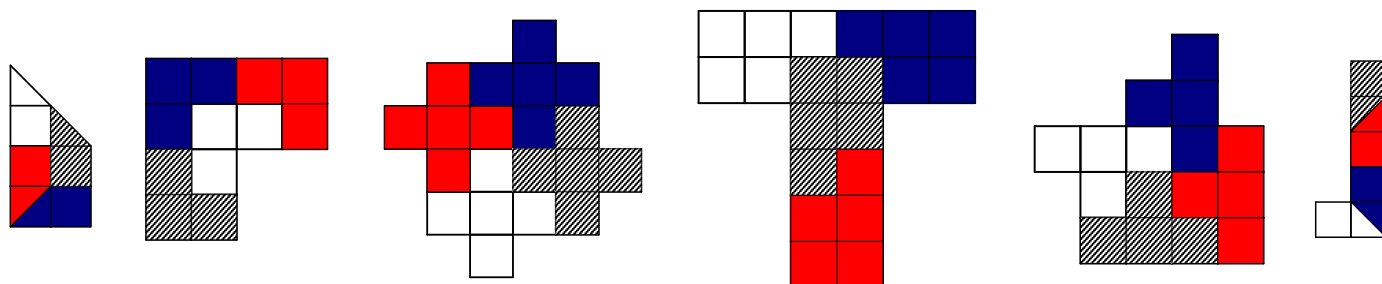
2. (2 бали за кожну фігуру) Розріжте кожну з поданих фігур на дві рівні частини. Різати можна лише по лініях сітки або по діагоналях клітинок.



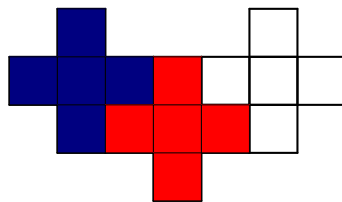
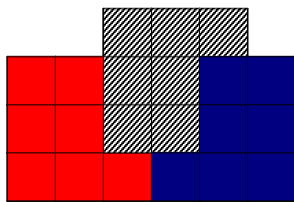
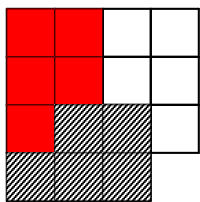
3. (2 бали за кожну фігуру) Розріжте кожну з поданих фігур на дві рівні частини. Різати можна лише по лініях сітки або по діагоналях клітинок.



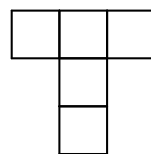
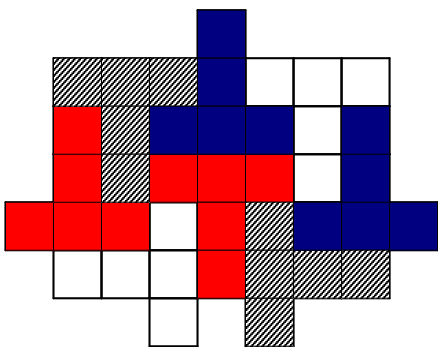
4. (3 бали за кожну фігуру) Розріжте кожну з поданих фігур на чотири рівні частини. Різати можна лише по лініях сітки або по діагоналях клітинок.



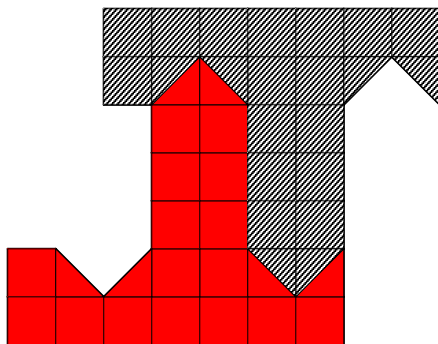
5. (4 бали за кожну фігуру) Розріжте кожну з поданих фігур на три рівні частини. Різати можна лише по лініях сітки.



6. (5 балів) Розріжте подану фігуру на частини у вигляді букви «Т» (її вигляд наведено праворуч від фігури). Різати можна лише по лініях сітки.



7. (6 балів) Розріжте подану фігуру на дві рівні частини. Різати можна лише по лініях сітки або по діагоналях клітинок.



**УВАГА! Можливі й інші варіанти розрізань**